

## La Guadeloupe, un espace ultra-périphérique intégré mais fragile



**Sujet d'étude** : L'aménagement d'un DROM en situation ultra-périphérique et sa relation à la métropole.

**La situation** : La Guadeloupe, un DROM situé en mer des Caraïbes

**Capacités** : Réaliser une carte de synthèse en utilisant un logiciel de cartographie. Réaliser une carte, un croquis de la situation étudiée.

**Outils**: Salle informatique, Google Earth /Maps, géoportail.fr, OOoHG (Open Office).

**Pré requis élève** : Manipulations de base avec Open Office Draw.

**Durée** : 2 heures.

**Objectifs** : La réalisation d'une carte de synthèse par les TICE dans le but mettre en avant la division et la diversité des espaces, de comprendre l'organisation territoriale de cet archipel, les forces et contraintes de son espace, ainsi que sa relation à la métropole.



### Définitions :

Un **DROM** : Département et Région d'Outre-Mer

Une **technopôle** est un parc d'activités spécialisé dans les hautes technologies comprenant grandes écoles, centres de recherches et entreprises innovantes...

Une **métropole d'équilibre** est une grande agglomération de province destinée à contrebalancer le poids de Paris.

Une **métropole** est une agglomération urbaine concentrant des fonctions de commandement qui lui donnent un rayonnement étendu.

Une **aire urbaine** est un ensemble de communes constitué par un pôle urbain, et par des communes rurales ou unités urbaines (couronne périurbaine) dont au moins 40 % de la population résidente ayant un emploi travaille dans le pôle ou dans des communes attirées par celui-ci.

La Guadeloupe est un archipel des Antilles de 1 705 km<sup>2</sup>. Cet archipel est peuplé de 440 000 habitants. Sa localisation et sa structure en font un espace original qu'il s'agit d'étudier puis de cartographier. C'est un DROM, Département et Région d'Outre-mer : c'est à la fois une région et un département. Par ailleurs, géographiquement, ce qui est appelée la « Guadeloupe continentale » se partage entre la Basse-Terre (848 km<sup>2</sup>) et la Grande-Terre (586 km<sup>2</sup>). Ses deux principales îles sont reliés par un bras de rivière (Rivière salée) d'où le surnom de « île papillon »

NOM:


Prénom:

Classe:

PAGE 1/5

## 1. Un espace voué à une agriculture exportatrice

1. Quelles sont les principales cultures la Guadeloupe ? Quelle pourcentage de la population active l'activité agricole représente-t-elle ? Cliquez [ici](#) pour répondre

2. Placez les sur la carte en complétant la légende en indiquant à quoi correspond chacun de ses figurés 



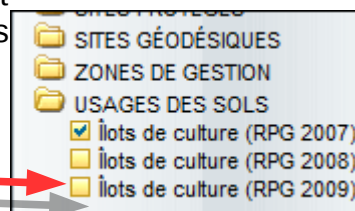
3. Quelles sont les autres cultures qui se sont développées ces dernières années. Cliquez [ici](#) pour le savoir et donner un exemple de production tiré de chaque tableau en choisissant les plus importantes. Cliquez [ici](#) pour pouvoir répondre et rendez-vous à la dernière page du document.


3. Contrairement à ce que peut faire penser la carte de cette page, le site de Géoportail conforte-t-il l'idée que l'espace est complètement cultivé ? cliquez [ici](#) pour répondre. Aidez-vous des questions suivantes également.

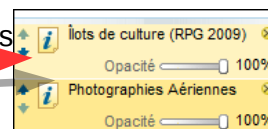
Vous allez utiliser le site de l'IGN Géoportail :

Les îlots de cultures de 2009 sont déjà sélectionnés.

Cliquez sur îlots de culture (RPG 2007).



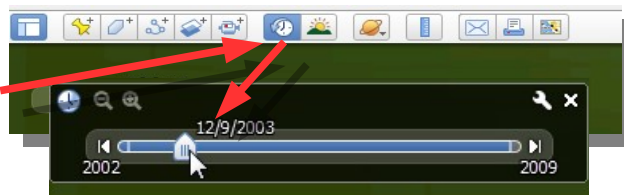
Cliquez sur  pour consulter la légende et savoir quels sont les espaces cultivés.



4. Face à la pression agricole sur l'espace guadeloupéen, en 1989 est décidé la création d'un parc naturel, le parc national de la Guadeloupe, l'un des neuf parcs nationaux français. Il s'agit d'un espace protégé. Pour pouvoir compléter votre carte, rendez-vous sur le site du parc national de la Guadeloupe. Le fichier KML visible sur ce [site](#) permettra de repérer les limites du parc ainsi que de la forêt tropicale et de pouvoir ainsi compléter la légende.



4. Avec quoi entre en concurrence l'espace agricole dans certaines zones voir le fichier kmz à nouveau et utilise la ligne de temps (images anciennes) et positionne le curseur sur 2003 pour voir l'évolution de l'espace agricole entre 2003 et 2009. Quelle conclusion pouvez-vous faire ?



NOM:

Prénom:

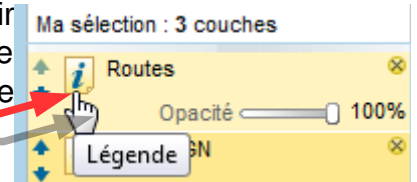
Classe:

## 2. Un territoire à deux têtes

Sa structure urbaine et politique est à deux têtes, avec une préfecture à Basse-Terre et une sous-préfecture à Pointe-à-Pitre.



1. Pour intégrer à votre croquis le nom des principaux pôles urbains de l'île, suivez ce premier [lien](#) et complétez ensuite leurs noms dans les zones textes correspondantes.

2. Indiquez à quoi correspondent les axes de communication : voir ce [lien](#). Vous préciserez dans la légende le texte d'axe de communication représentés en cliquant sur le « I » de la légende de la couche « Routes »



3. À travers les tableaux du « 2. Les trois plus grandes agglomérations », indiquez quelle est l'agglomération qui a le poids le plus important démographiquement et économiquement.

4. Ensuite placez au bon endroit les figurés correspondants à :

- la capitale régionale 
- la capitale économique 

5 Quelles sont les infrastructures peuvent expliquer la domination économique de ce pôle urbain ? Voir le fichier KMZ « la Guadeloupe » ou sur la carte précédente.



6. Placez les sur la carte en regardant le fichier KMZ « la Guadeloupe ». Les symboles les représentant se trouvent sur le côté de la carte.

7. À travers cette [carte](#), indiquez quels éléments peuvent bloquer l'extension de Basse-Terre ?

Pour vous aider vous pouvez mettre le curseur de la souris sur satellites puis cliquez gauche sur relief dans le menu déroulant qui apparaît.



NOM:  Prénom:  Classe:

### 3. Un territoire dépendant et fragile mais avec des potentialités

#### A. Un territoire dépendant de l'extérieur

La Guadeloupe fait partie de l'Union européenne. L'UE lui reconnaît le statut de "région ultra-périphérique". Cette reconnaissance permet à la Guadeloupe de recevoir des financements pour l'aide au développement (dans le cadre notamment de deux dispositifs, le [FEDER](#), fond européen de développement régional, et le POSEI, programme opérationnel spécifique à l'éloignement et à l'insularité). L'archipel reçoit des aides de la métropole et de l'Union européenne : la Guadeloupe a reçu 835 millions d'Euros entre 2000 et 2006 de l'Union européenne et 869 million pour la période de 2007 à 2013. Au total, le solde net des transferts publics représente environ 1/4 du PIB de la Guadeloupe. L'archipel souffre donc d'une incontestable dépendance économique.

1. Complétez l'élément qui manque dans la légende montrant cette dépendance.



#### B. Des aléas importants

1. La Guadeloupe est victime de différents types d'aléas. Indiquez les différents types d'aléas dont est victime la Guadeloupe grâce à ce [site](#) :

2. Complétez la légende grâce à vos réponses : pour celle de ce symbole vous pouvez utiliser ce [document](#).

#### C. Des atouts touristiques

1. Quels sont les atouts touristiques de la Guadeloupe ? Déterminez-les grâce à ce [site](#). Pour vous aider cliquez dans le menu du bas dans éléments composant la colonne « activités ».





2. Cochez les bonnes cases dans le tableau suivant, à l'aide des activités que vous avez découverte dans l'exercice précédent.

TYPE DE TOURISME	
<input type="checkbox"/> tourisme culturel	<input type="checkbox"/> tourisme sportif
<input type="checkbox"/> tourisme de cure (thermal)	<input type="checkbox"/> tourisme gastronomique
<input type="checkbox"/> tourisme vert	<input type="checkbox"/> tourisme religieux
<input type="checkbox"/> tourisme balnéaire	<input type="checkbox"/> tourisme blanc

3. Vous allez vous concentrer sur le Gosier et déterminer les différentes activités et infrastructures qui y permettent de développer le tourisme grâce à la carte [suivante](#) :

NOM:  Prénom:  Classe:

4. Vous allez compléter la légende concernant le tourisme sur la carte en indiquant d'abord le type de littoral se trouvant au sud de Basse-Terre (voir cette [carte](#)) 
5. Vous indiquerez ensuite le type de station présenté par ce repère  et leur nom en regardant la même [carte](#).

Un grand projet d'équipement est prévue à Gosier mais actuellement a été refusé. (si vous êtes pris par le temps passez directement à la dernière question.

6. Qui est l'auteur de cette page Web ?

7. Quels sont les équipements prévus ?

8. Pourquoi ce projet est-il critiqué ?

9. Les coraux sont un atouts pour la Guadeloupe expliquez ce qui met leur existence en danger grâce au [site](#) suivant. Utilisez le tableau qui se trouve au bas de la page.

les sédiments terrigènes sont éléments issus des terres émergées et amenés à la mer par les fleuves, le ruissellement, les vents



NOM:

Prénom:

Classe: